

Devoirs

3P

Semaine 17	0 à 50	additions
Semaine 18	0 à 50	formes / additions
Semaine 19	0 à 50	formes / additions
Semaine 20	0 à 60	additions
Semaine 21	0 à 60	formes / additions
Semaine 22	0 à 60	formes / additions

Les nombres de 0 à 50

Choisis le bon signe : $<$ ou $>$

$40 \bigcirc 44$

$49 \bigcirc 46$

$48 \bigcirc 41$

$33 \bigcirc 37$

Range du plus petit au plus grand.

43 - 40 - 49 - 38 - 46

--	--	--	--	--

Note les réponses aux calculs.

$2 + 5 = \dots$

$1 + 4 = \dots$

$6 + 0 = \dots$

$8 + 1 = \dots$

$5 + 1 = \dots$

$2 + 6 = \dots$

$4 + 5 = \dots$


$3 + 3 = \dots$

$5 + 5 = \dots$

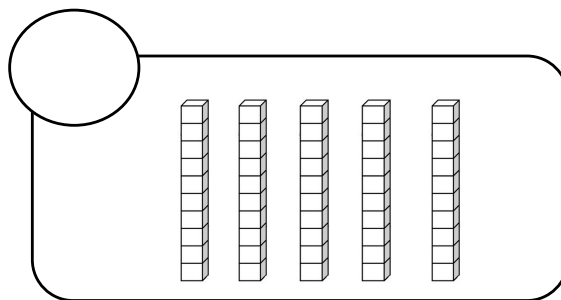
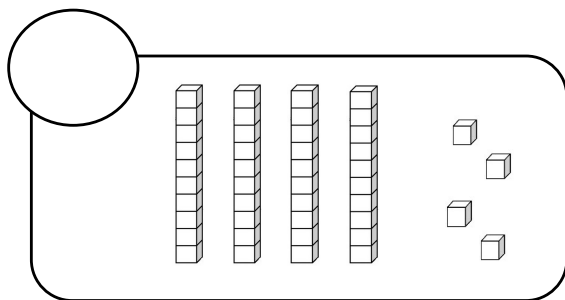


Les nombres de 0 à 50

Compte et note le nombre de . Fais des paquets de 10.



Compte.



Note les réponses aux calculs.

$2 + 4 = \dots$

$3 + 4 = \dots$

$7 + 0 = \dots$

$9 + 1 = \dots$

$5 + 2 = \dots$


$3 + 6 = \dots$

$4 + 4 = \dots$

$2 + 2 = \dots$

$7 + 1 = \dots$

Colorie les triangles en bleu et les carrés en vert.



Les nombres de 0 à 50

Choisis le bon signe : $<$ ou $>$

42 46

41 42

40 43

39 40

Range du plus grand au plus petit.

44 - 50 - 48 - 41 - 45

Note les réponses aux calculs.

$1 + 4 = \dots$

$2 + 4 = \dots$

$6 + 0 = \dots$

$8 + 1 = \dots$

$5 + 5 = \dots$

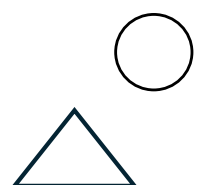

$2 + 6 = \dots$

$4 + 5 = \dots$

$1 + 1 = \dots$

$9 + 1 = \dots$

Colorie les ronds en bleu et les rectangles en vert.



les nombres de 0 à 60Choisis le bon signe : $<$ ou $>$

50 ○ 54

59 ○ 56

58 ○ 51

43 ○ 47

Range du plus petit au plus grand.

53 - 50 - 49 - 58 - 55

--	--	--	--	--

Note les réponses aux calculs.

$3 + 5 = \dots$

$2 + 4 = \dots$

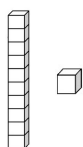
$9 + 0 = \dots$

$8 + 2 = \dots$

$5 + 2 = \dots$

$3 + 6 = \dots$

Dessine.




54

60

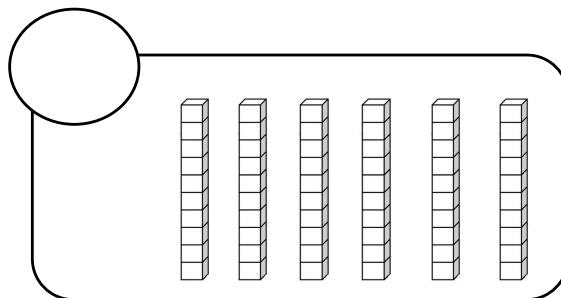
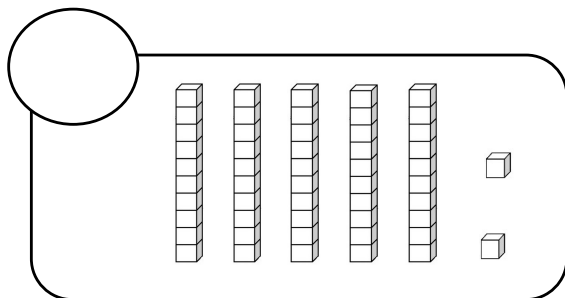


Les nombres de 0 à 60

Compte et note le nombre de . Fais des paquets de 10.



Compte.



Note les réponses aux calculs.

$2 + 6 = \dots$

$4 + 4 = \dots$

$6 + 1 = \dots$

$8 + 1 = \dots$

$7 + 2 = \dots$

$3 + 5 = \dots$


$4 + 6 = \dots$

$0 + 9 = \dots$


$5 + 1 = \dots$

Dessine.

un carré



un rectangle



les nombres de 0 à 60

Choisis le bon signe : $<$ ou $>$

52 ○ 56

51 ○ 52

60 ○ 53

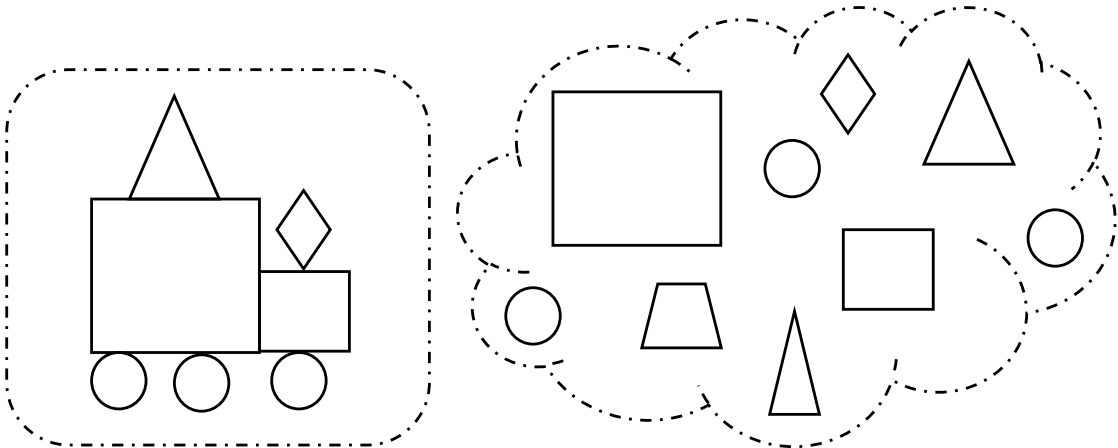
59 ○ 50

Range du plus grand au plus petit.

54 - 60 - 56 - 52 - 55

--	--	--	--	--

Colorie les formes dont tu as besoin pour réaliser le dessin.



Note les réponses aux calculs.

$3 + 4 = \dots$

$2 + 6 = \dots$

$3 + 0 = \dots$

$6 + 1 = \dots$

$3 + 3 = \dots$

$2 + 7 = \dots$

$3 + 5 = \dots$

$5 + 1 = \dots$

$4 + 1 = \dots$

