



Fiche 1

1) Range les nombres suivants du plus petit au plus grand.

145 - 126 - 160 - 155 - 158

--	--	--	--	--

2) Range les nombres suivants du plus grand au plus petit.

123 - 144 - 138 - 159 - 151


--	--	--	--	--

3) Complète les suites de nombres.

152	153					
-----	-----	--	--	--	--	--

138	139					
-----	-----	--	--	--	--	--

Nombres de 0 à 160



Fiche 2

1) Décompose: $148 = 100 + 40 + 8$

$$155 = \underline{\quad} + \underline{\quad} + \underline{\quad}$$

$$136 = \underline{\quad} + \underline{\quad} + \underline{\quad}$$

$$127 = \underline{\quad} + \underline{\quad} + \underline{\quad}$$

$$102 = \underline{\quad} + \underline{\quad} + \underline{\quad}$$

$$110 = \underline{\quad} + \underline{\quad} + \underline{\quad}$$

$$160 = \underline{\quad} + \underline{\quad} + \underline{\quad}$$

2) Complète le tableau.

avant	nombre	après
	145	
	102	
	139	
	160	

3) Place le signe qui convient. $<$ ou $>$

$$110 \underline{\quad} 100 + 5$$


$$160 \underline{\quad} 141 + 12$$

$$99 \underline{\quad} 90 + 6$$

$$122 \underline{\quad} 100 + 11$$

$$140 \underline{\quad} 100 + 57$$

$$141 \underline{\quad} 110 + 22$$



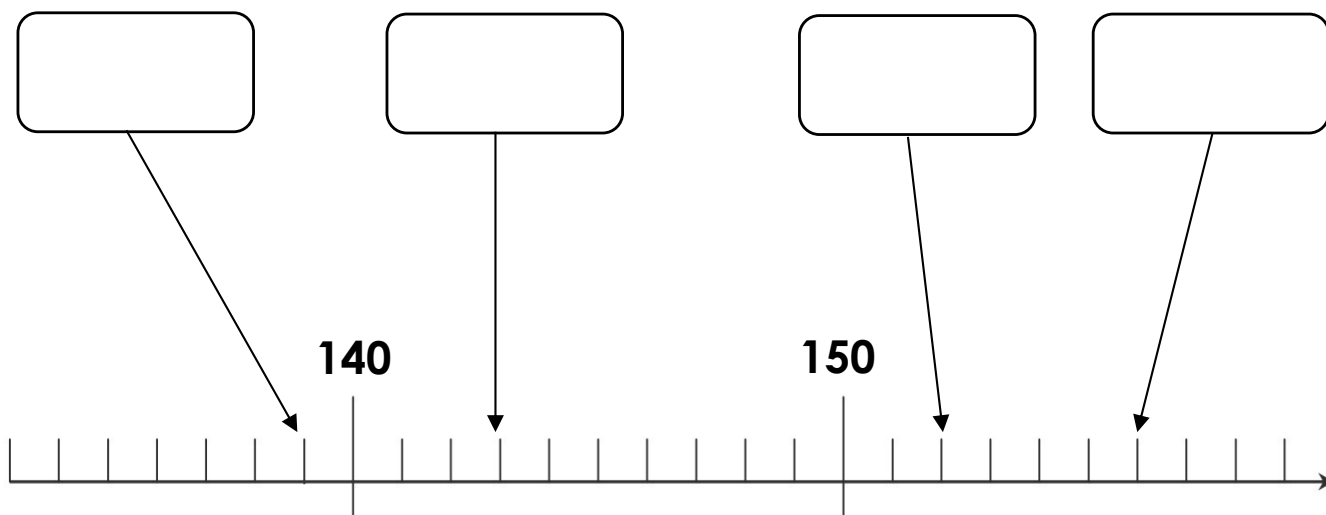
Fiche 3

1) Complète les tableaux.

+ 10	
30	
100	
155	
142	
111	

+ 1	
145	
159	
99	
101	
133	

2) Complète.

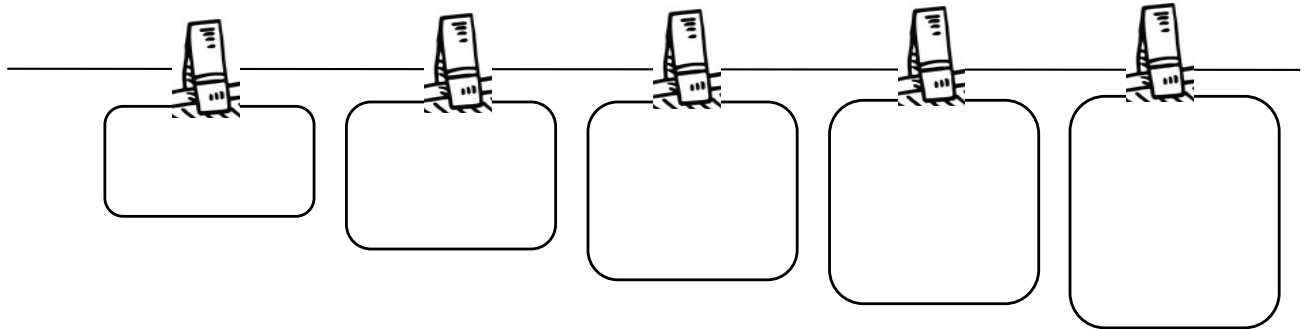






Fiche 4

1) Ecris les nombres sur la corde à linge du plus petit au plus grand.


158 - 155 - 164 - 157 - 169



2) Complète les suites.



3) Complète la suite.



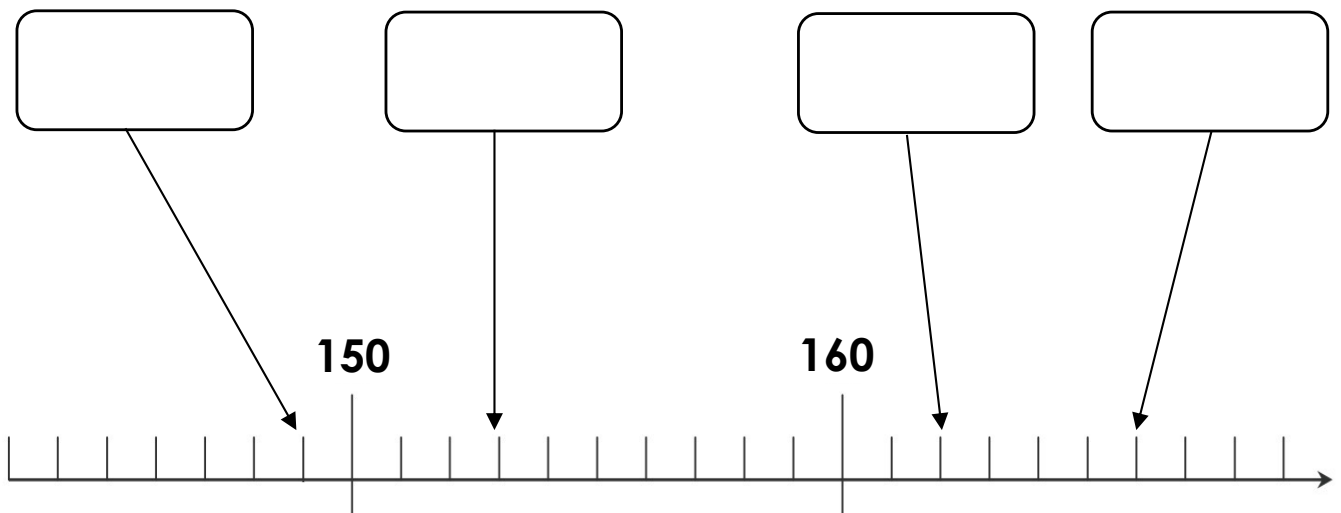


Fiche 5

1) Complète le tableau.

avant	nombre	après
	135	
	142	
	156	
	159	
	161	
	164	
	169	

2) Complète.





Fiche 6

1) Range les nombres suivants du plus grand au plus petit.

123 - 144 - 138 - 159 - 151

--	--	--	--	--

2) Complète les suites de nombres.

145	146					
-----	-----	--	--	--	--	--

164	165					
-----	-----	--	--	--	--	--

3) Place le signe qui convient. < ou >

150 _____ 160

161 _____ 169

155 _____ 149

170 _____ 166

168 _____ 162

163 _____ 168

149 _____ 155

159 _____ 166

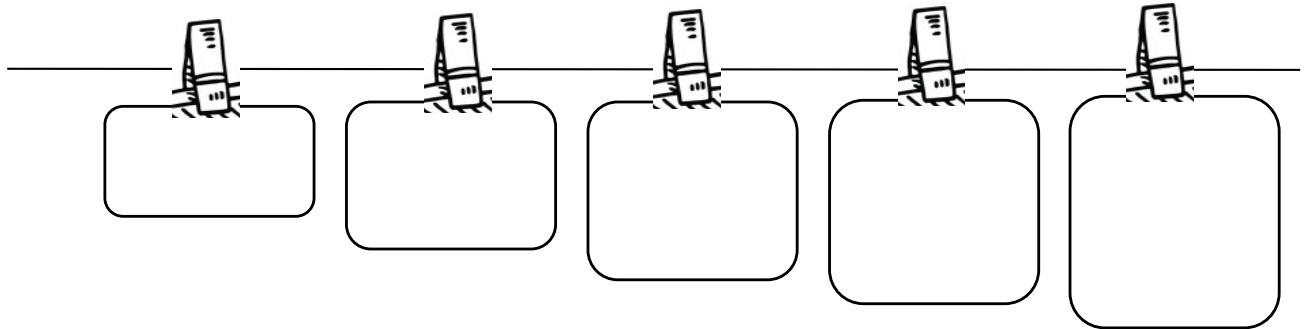
160 _____ 165





Fiche 7

1) Ecris les nombres sur la corde à linge du plus petit au plus grand.


168 - 175 - 154 - 167 - 179




2) Complète les suites.



3) Complète la suite.



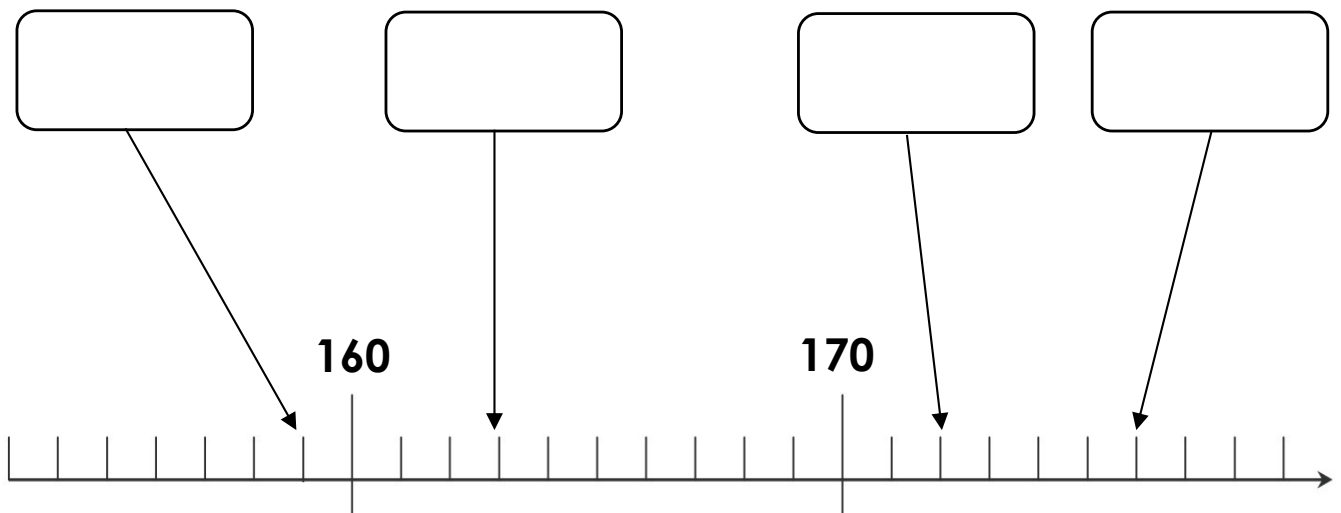


Fiche 8

1) Complète le tableau.

avant	nombre	après
	145	
	152	
	166	
	169	
	171	
	174	
	179	

2) Complète.





Fiche 9

1) Range les nombres suivants du plus grand au plus petit.

173 - 164 - 178 - 179 - 161

2) Complète les tableaux.

+ 10

150	
158	
161	
165	

+ 1

169	
172	
176	
179	

3) Place le signe qui convient. < ou >

160 _____ 172

171 _____ 179

176 _____ 180

180 _____ 165

173 _____ 172

165 _____ 160