

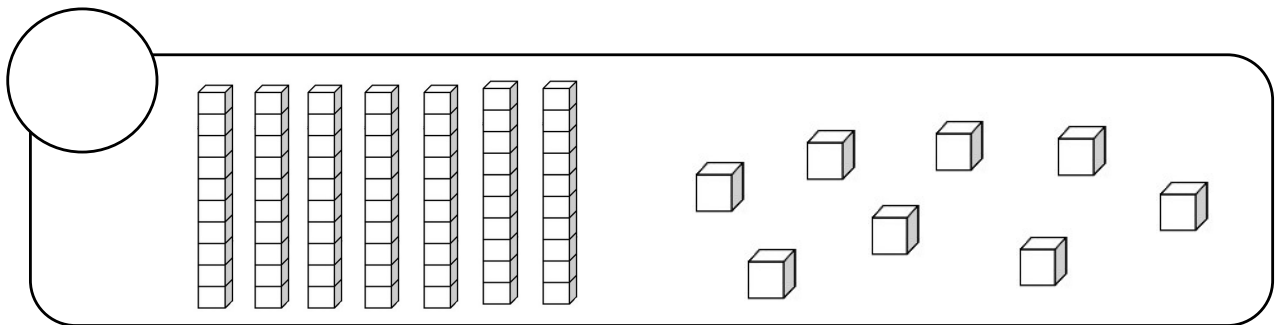
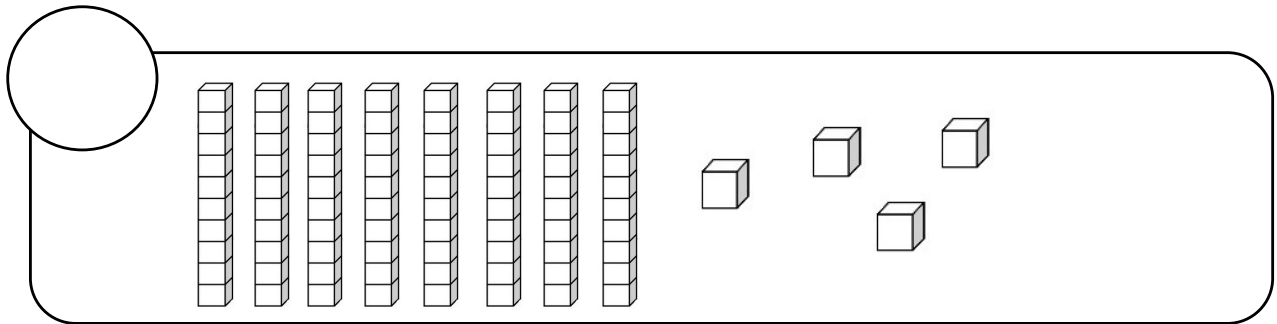
MATHS : DEVOIRS

1) Range les nombres du plus petit au plus grand :

87 - 70 - 82 - 90 - 66

Five empty rounded rectangular boxes for writing the numbers in order from smallest to largest.

2) Compte :



3) Choisis le bon signe : < ou >

87 ○ 65

77 ○ 83

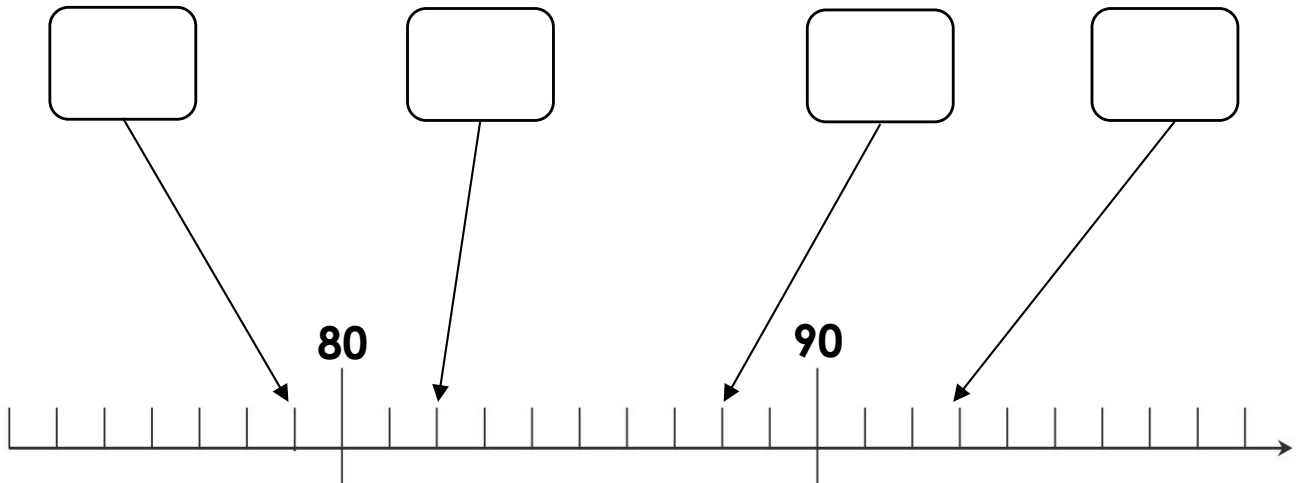
90 ○ 85

81 ○ 89





MATHS : DEVOIRS

1) Note les nombres correspondants dans les bulles.



2) Complète les suites :



3) Choisis le bon signe : $<$ ou $>$

$$96 \bigcirc 99$$

$$90 \bigcirc 91$$

$$100 \bigcirc 87$$

$$98 \bigcirc 88$$

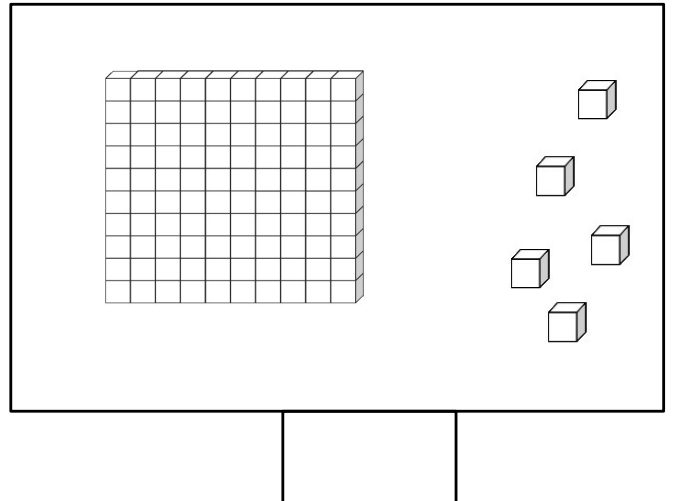
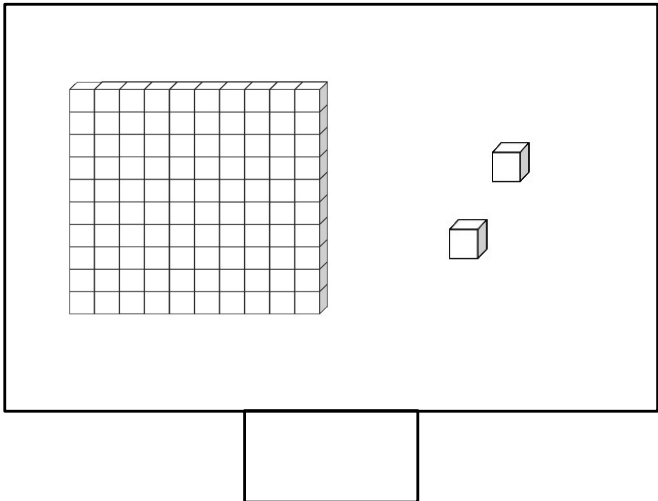


MATHS : DEVOIRS

1) Ecris les nombres de 99 à 110 :

99						
106						

2) Compte :



3) Choisis le bon signe : $<$ ou $>$ ou $=$

$101 \bigcirc 108$

$104 \bigcirc 100$

$99 \bigcirc 105$

$107 \bigcirc 95$

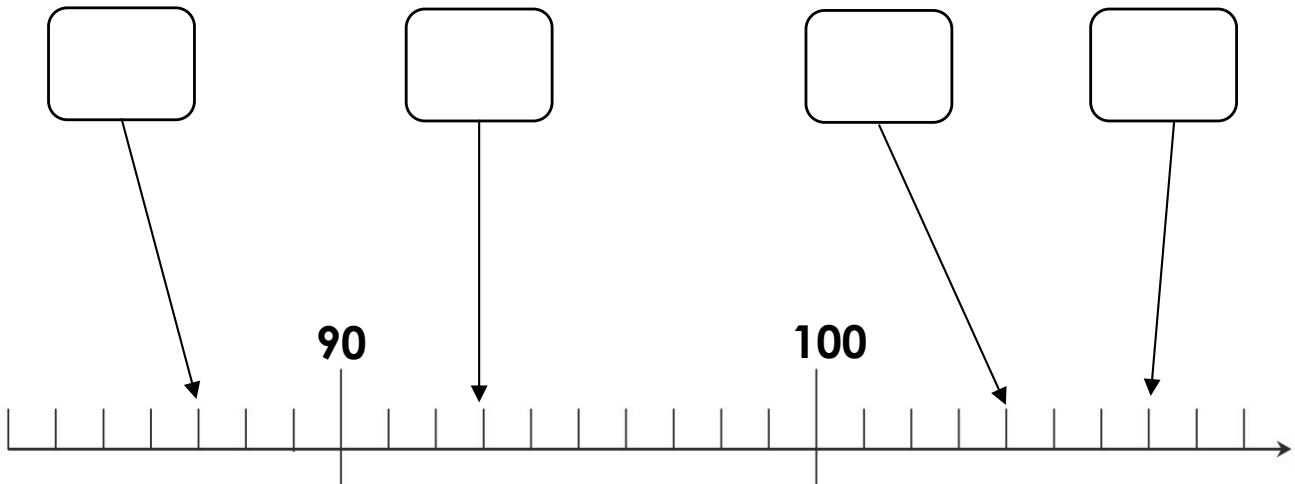
$100 \bigcirc 99 + 1$

$102 \bigcirc 100 + 3$



MATHS : DEVOIRS

1) Note les nombres correspondants dans les bulles.



2) Range les nombres du plus petit au plus grand :

101 - 108 - 99 - 105 - 110

Five empty boxes of increasing size from left to right, intended for writing the numbers in ascending order.

3) Range les nombres du plus grand au plus petit :

109 - 98 - 100 - 107 - 102

Five empty boxes of decreasing size from left to right, intended for writing the numbers in descending order.



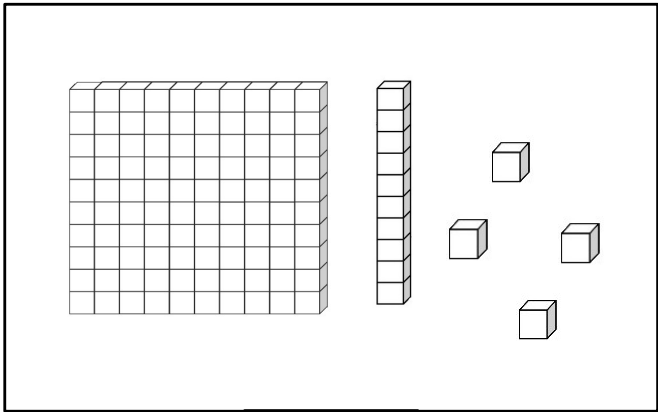
MATHS : DEVOIRS

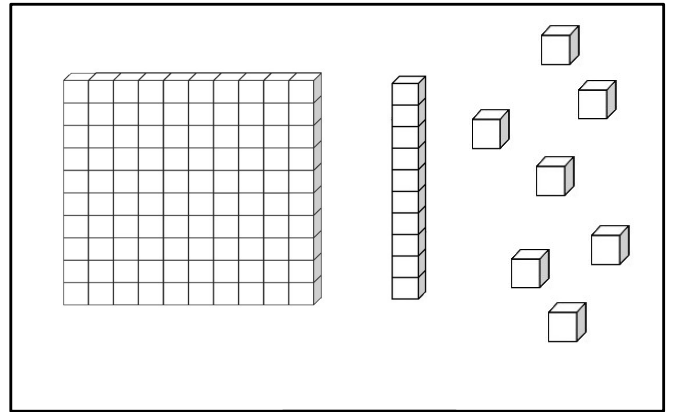
1) Complète les suites :

108	109					
-----	-----	--	--	--	--	--

114	115					
-----	-----	--	--	--	--	--

2) Compte :





3) Range les nombres du plus petit au plus grand :

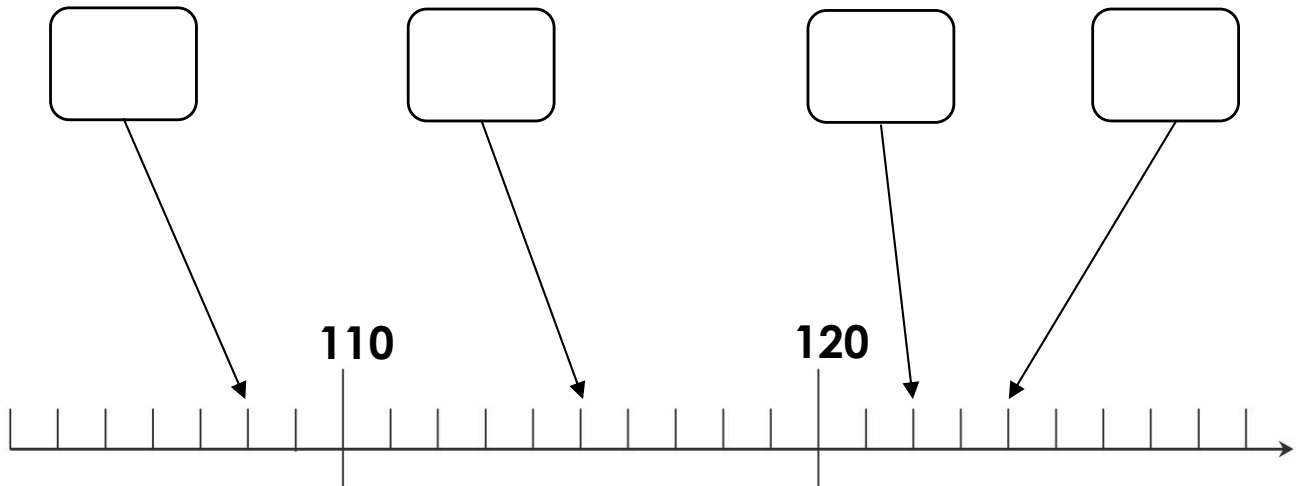
119	-	110	-	105	-	114	-	120
-----	---	-----	---	-----	---	-----	---	-----

--	--	--	--	--



MATHS : DEVOIRS

1) Note les nombres correspondants dans les bulles.



2) Range les nombres du plus grand au plus petit :

111 - 117 - 120 - 112 - 108

3) Choisis le bon signe : $<$ ou $>$ ou $=$

112 ○ 119

120 ○ 113

110 ○ 118

109 ○ 114

115 ○ $110 + 5$

112 ○ $100 + 13$

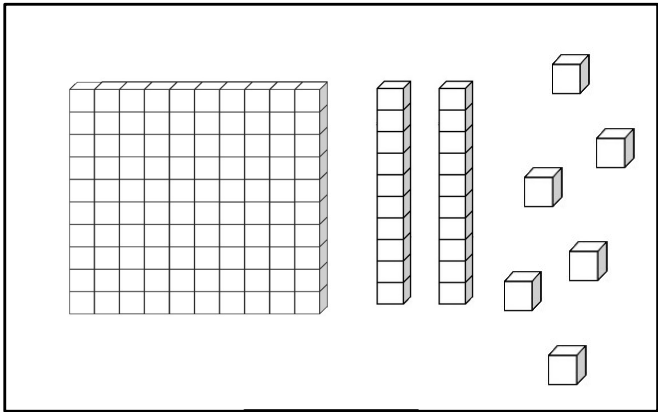


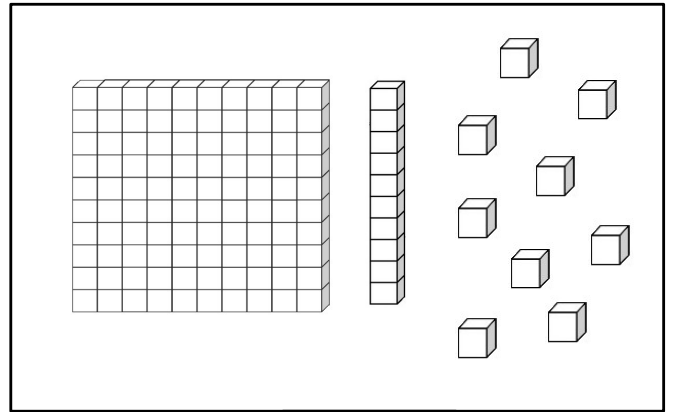
MATHS : DEVOIRS

1) Ecris les nombres de 119 à 130 :

119						
126						

2) Compte :





3) Choisis le bon signe : $<$ ou $>$ ou $=$

$128 \bigcirc 130$

$112 \bigcirc 127$

$124 \bigcirc 120$

$129 \bigcirc 123$

$120 \bigcirc 120 + 1$

$126 \bigcirc 120 + 7$

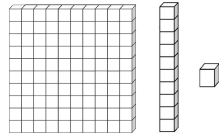
MATHS : DEVOIRS

1) Complète les suites :

108	109					
-----	-----	--	--	--	--	--

118	119					
-----	-----	--	--	--	--	--

2) Dessine :



124

112

3) Range les nombres du plus petit au plus grand :

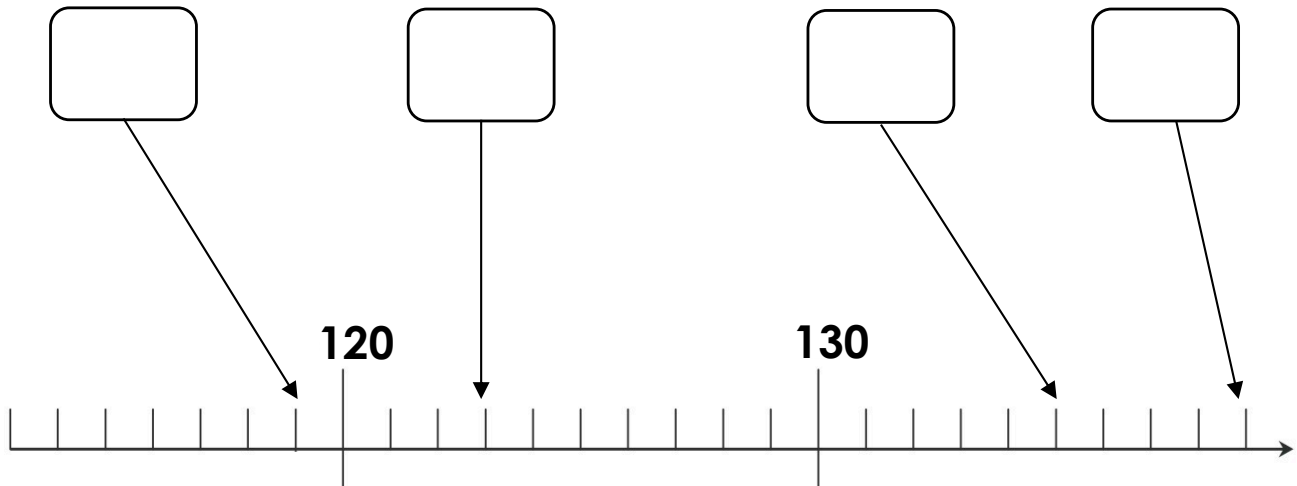
129 - 120 - 115 - 124 - 130

--	--	--	--	--



MATHS : DEVOIRS

1) Note les nombres correspondants dans les bulles.



2) Range les nombres du plus grand au plus petit :

132 - 128 - 140 - 137 - 135

3) Choisis le bon signe : < ou > ou =

$132 \bigcirc 139$

$125 \bigcirc 133$

$130 \bigcirc 138$

$137 \bigcirc 135$

$130 \bigcirc 120 + 10$

$132 \bigcirc 130 + 3$



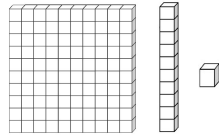
MATHS : DEVOIRS

1) Complète les suites :

115	116					
-----	-----	--	--	--	--	--

128	129					
-----	-----	--	--	--	--	--

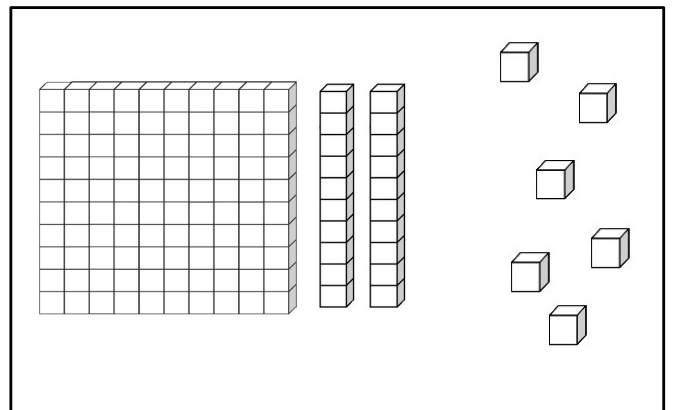
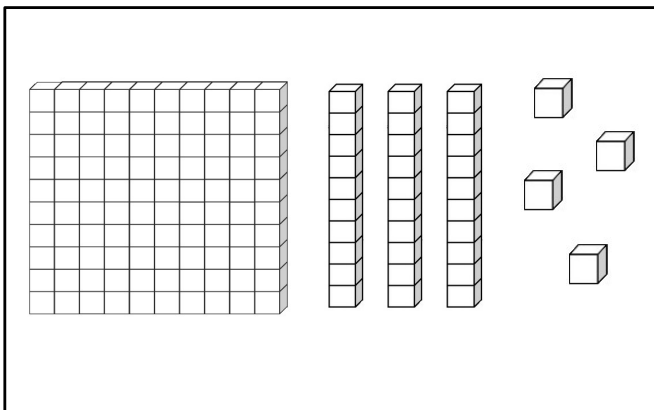
2) Dessine :



131

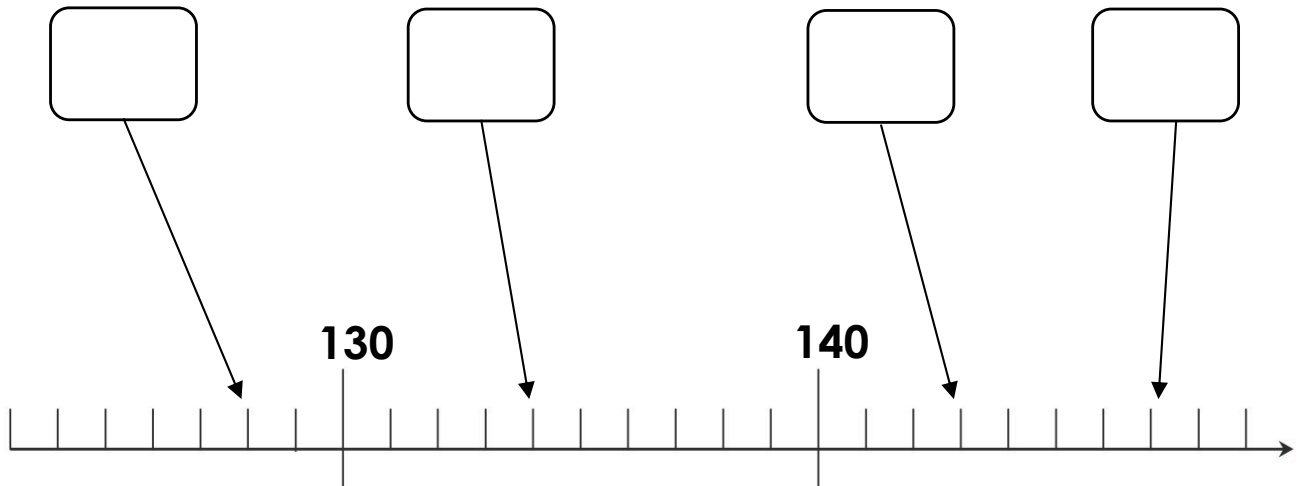
137

3) Compte :



MATHS : DEVOIRS

1) Note les nombres correspondants dans les bulles.



2) Range les nombres du plus grand au plus petit :

141 - 138 - 150 - 148 - 145

3) Choisis le bon signe : < ou > ou =

142 ○ 141

140 ○ 149

150 ○ 145

146 ○ 142

140 ○ 140 + 1

145 ○ 140 + 5



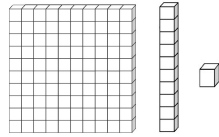
MATHS : DEVOIRS

1) Complète les suites :

125	126					
-----	-----	--	--	--	--	--

138	139					
-----	-----	--	--	--	--	--

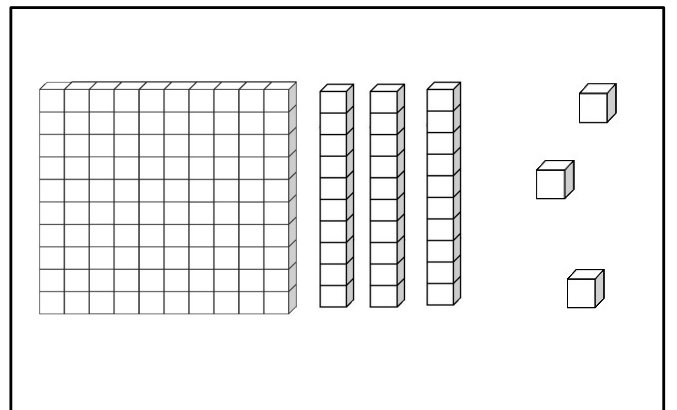
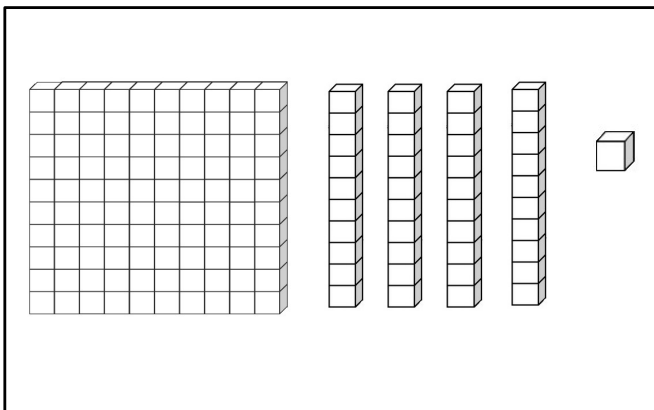
2) Dessine :



148

135

3) Compte :

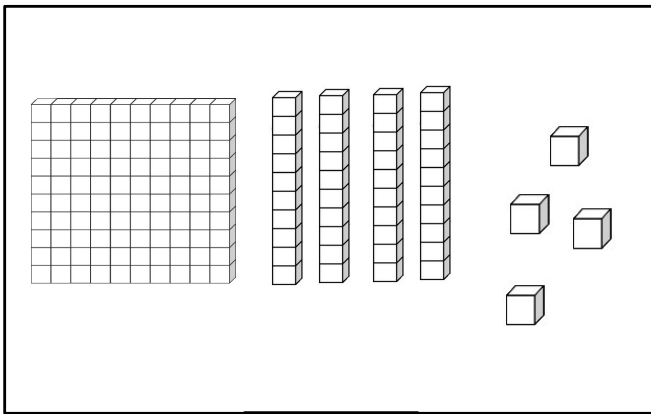


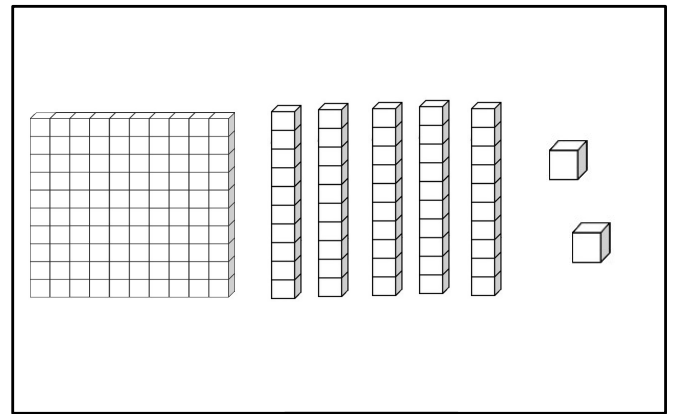
MATHS : DEVOIRS

1) Range les nombres du plus petit au plus grand :

157 - 149 - 152 - 160 - 155

2) Compte :





3) Choisis le bon signe : $<$ ou $>$ ou $=$

158 ○ 156

157 ○ 160

147 ○ 150

145 ○ 156

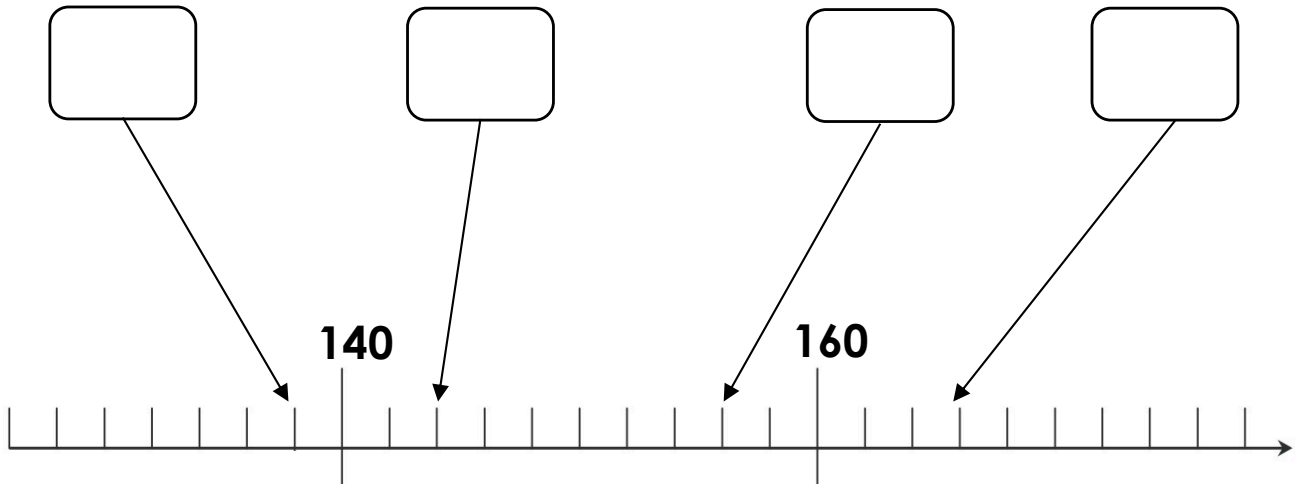
150 ○ $140 + 10$

154 ○ $150 + 4$






MATHS : DEVOIRS

1) Note les nombres correspondants dans les bulles.



2) Complète les suites :

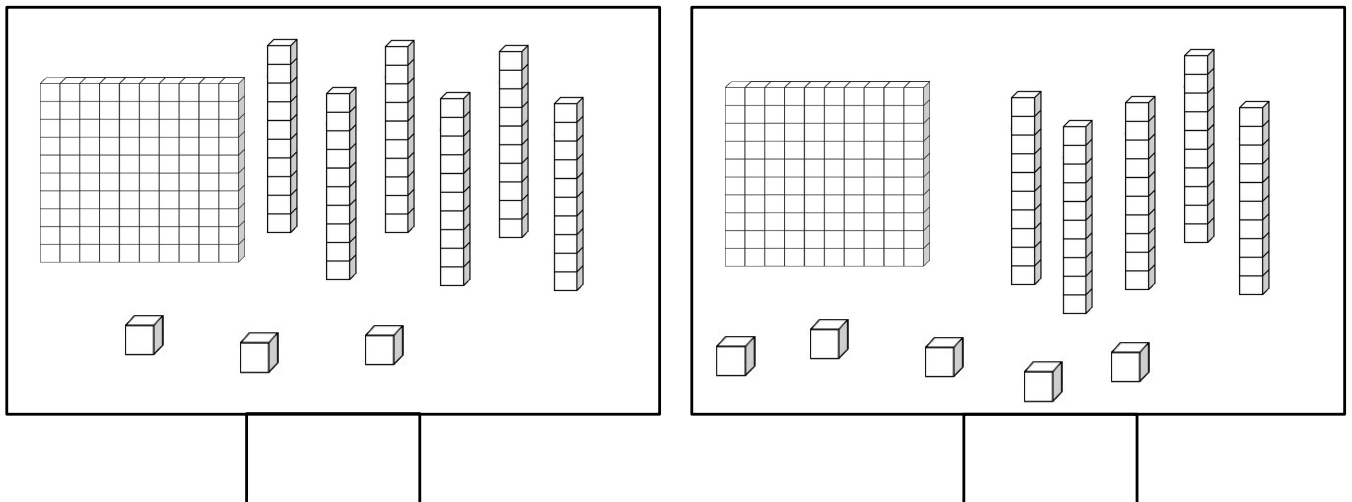


MATHS : DEVOIRS

1) Ecris les nombres de 159 à 170 :

159						
166						

2) Compte :



3) Complète les suites :

+ 2

150					
-----	--	--	--	--	--

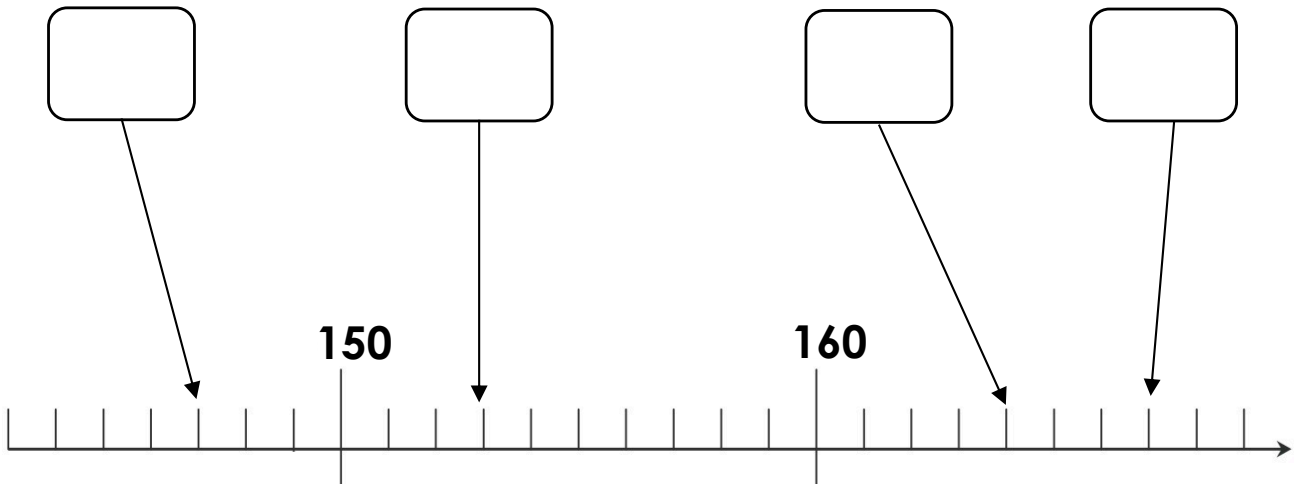
+ 5

135					
-----	--	--	--	--	--



MATHS : DEVOIRS

1) Note les nombres correspondants dans les bulles.



2) Range les nombres du plus petit au plus grand :

155 - 168 - 159 - 170 - 166

3) Range les nombres du plus grand au plus petit :

158 - 160 - 153 - 168 - 164



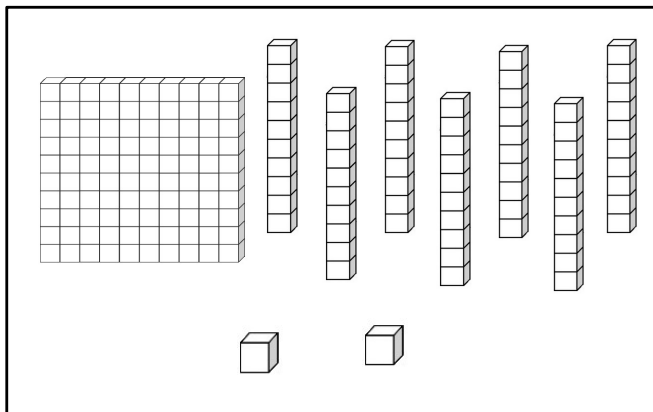
MATHS : DEVOIRS

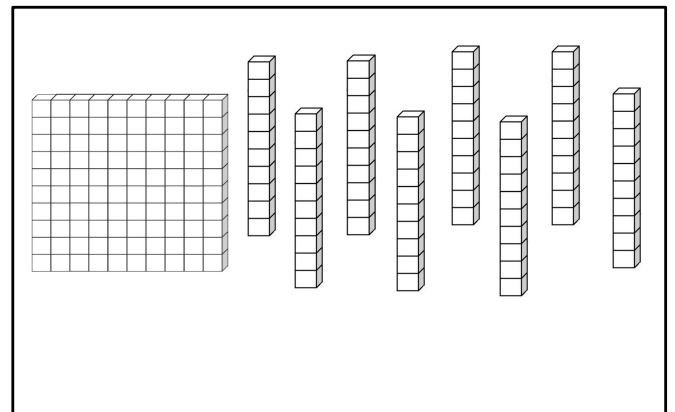
1) Complète les suites :

168	169					
-----	-----	--	--	--	--	--

174	175					
-----	-----	--	--	--	--	--

2) Compte :





3) Range les nombres du plus petit au plus grand :

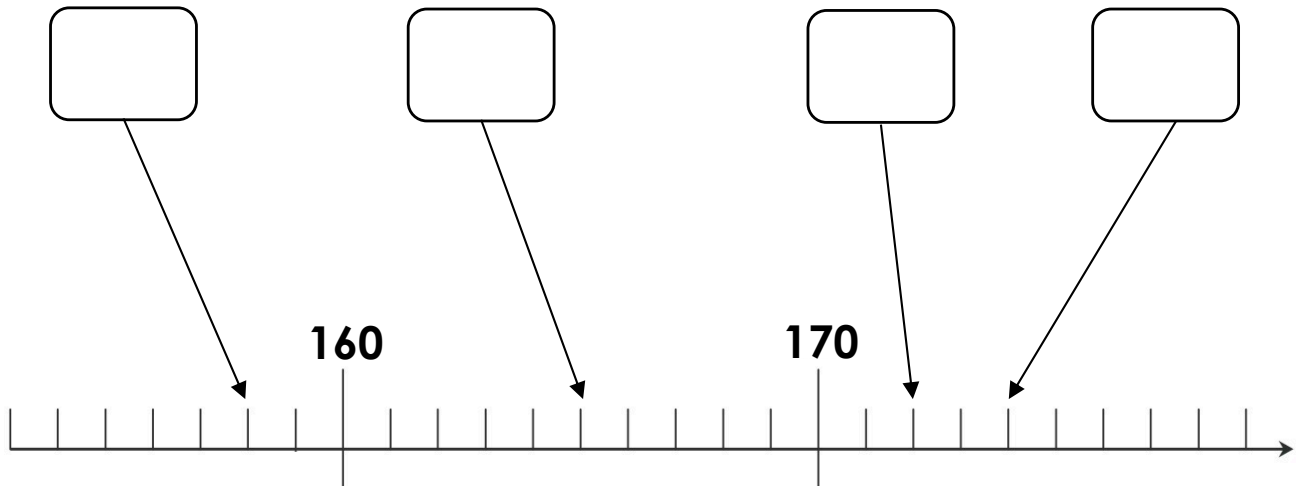
168	-	175	-	169	-	171	-	179
-----	---	-----	---	-----	---	-----	---	-----

--	--	--	--	--



MATHS : DEVOIRS

1) Note les nombres correspondants dans les bulles.



2) Range les nombres du plus grand au plus petit :

178 - 165 - 174 - 180 - 170

Five empty rounded rectangular boxes are arranged in a horizontal row, intended for the student to write the numbers from the list above in descending order.

3) Choisis le bon signe : < ou > ou =

172 ○ 168

175 ○ 170

177 ○ 180

171 ○ 173

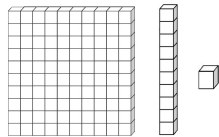


MATHS : DEVOIRS

1) Ecris les nombres de 179 à 190 :

179						
186						

2) Dessine :



177

182

3) Complète les suites :

+ 2

180					
-----	--	--	--	--	--

+ 5

165					
-----	--	--	--	--	--



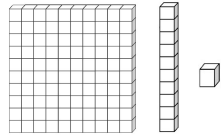
MATHS : DEVOIRS

1) Complète les suites :

168	169					
-----	-----	--	--	--	--	--

184	185					
-----	-----	--	--	--	--	--

2) Dessine :



184

190

3) Range les nombres du plus petit au plus grand :

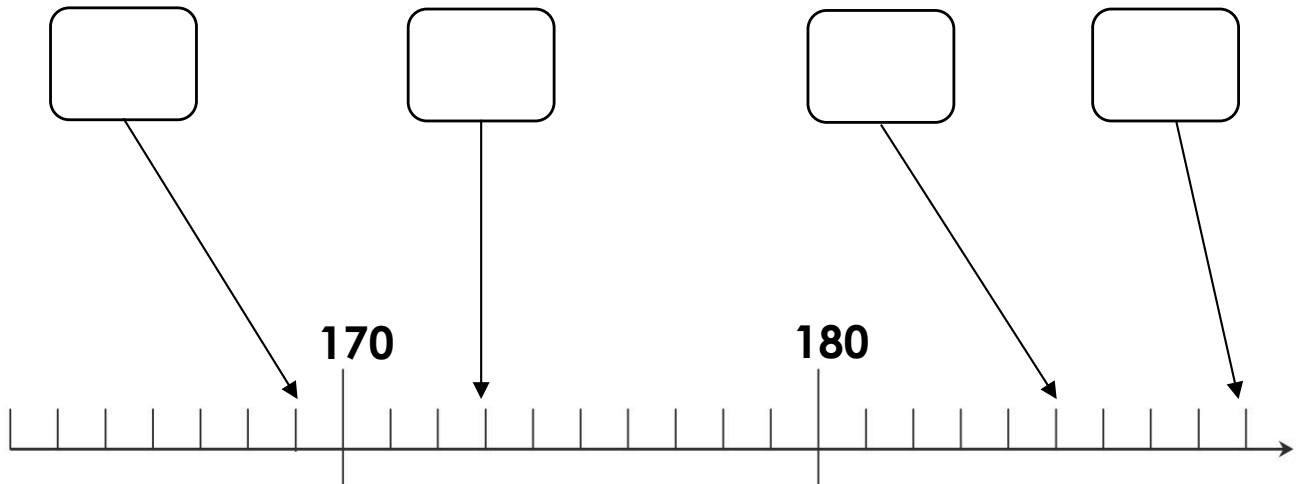
189 - 170 - 185 - 177 - 190

--	--	--	--	--



MATHS : DEVOIRS

1) Note les nombres correspondants dans les bulles.



2) Range les nombres du plus grand au plus petit :

132 - 128 - 140 - 137 - 135

3) Choisis le bon signe : < ou > ou =

132 ○ 139

125 ○ 133

130 ○ 138

137 ○ 135

130 ○ 120 + 10

132 ○ 130 + 3



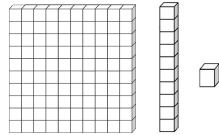
MATHS : DEVOIRS

1) Complète les suites :

187	188					
-----	-----	--	--	--	--	--

194	195					
-----	-----	--	--	--	--	--

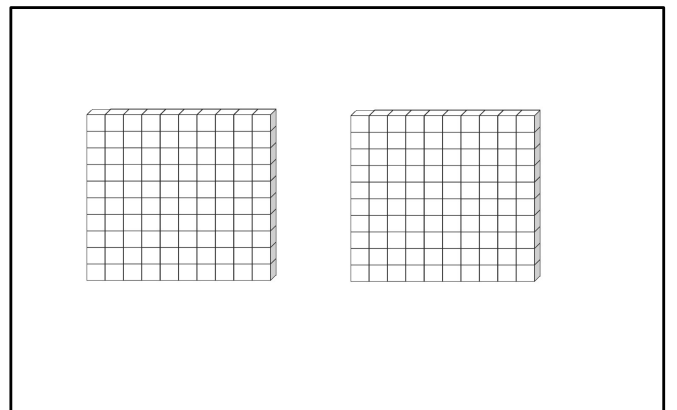
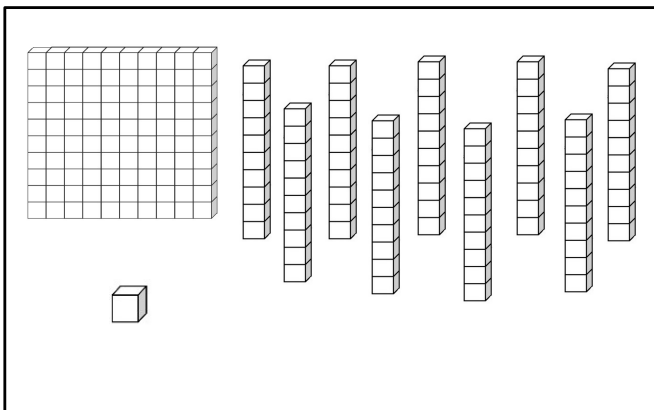
2) Dessine :



194

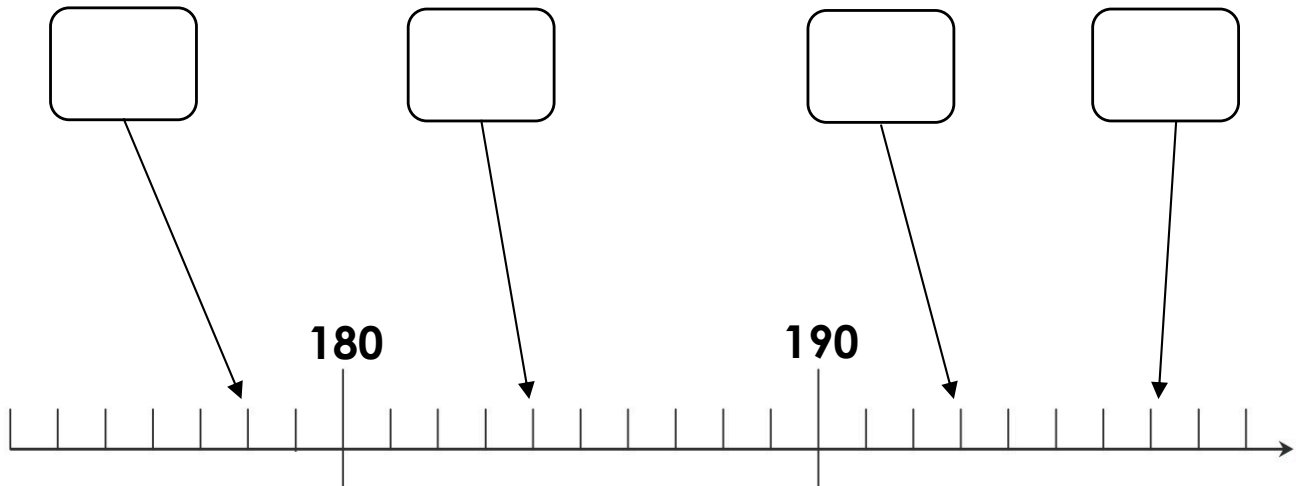
185

3) Compte :



MATHS : DEVOIRS

1) Note les nombres correspondants dans les bulles.



2) Range les nombres du plus grand au plus petit :

195 - 174 - 182 - 197 - 200

3) Choisis le bon signe : $<$ ou $>$ ou $=$

194 ○ 193

197 ○ 200

190 ○ 195

191 ○ 187



MATHS : DEVOIRS

1) Ecris les nombres de 189 à 200 :

189						
	196					

2) Complète les suites :

181	182						
-----	-----	--	--	--	--	--	--

194	195				
-----	-----	--	--	--	--

3) Complète les suites :

180					
-----	--	--	--	--	--

+ 2

165					
-----	--	--	--	--	--

+ 5

