

Devoirs

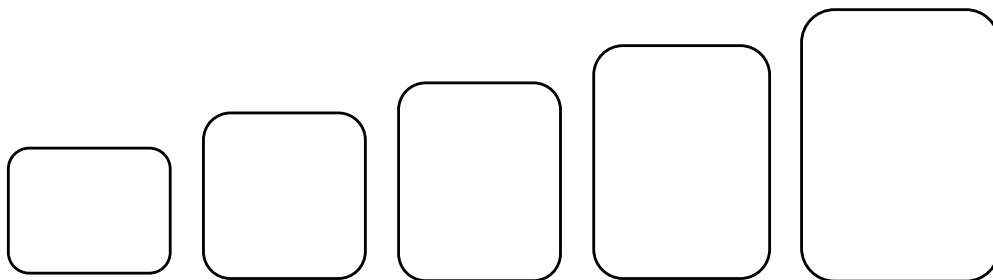
4P

Semaine 17	Nombres 0 à 160
Semaine 18	Nombres de 0 à 160 + soustractions
Semaine 19	Nombres de 0 à 170
Semaine 20	Nombres de 0 à 170 + soustractions
Semaine 21	Nombres de 0 à 180
Semaine 22	Nombres de 0 à 180 + soustractions

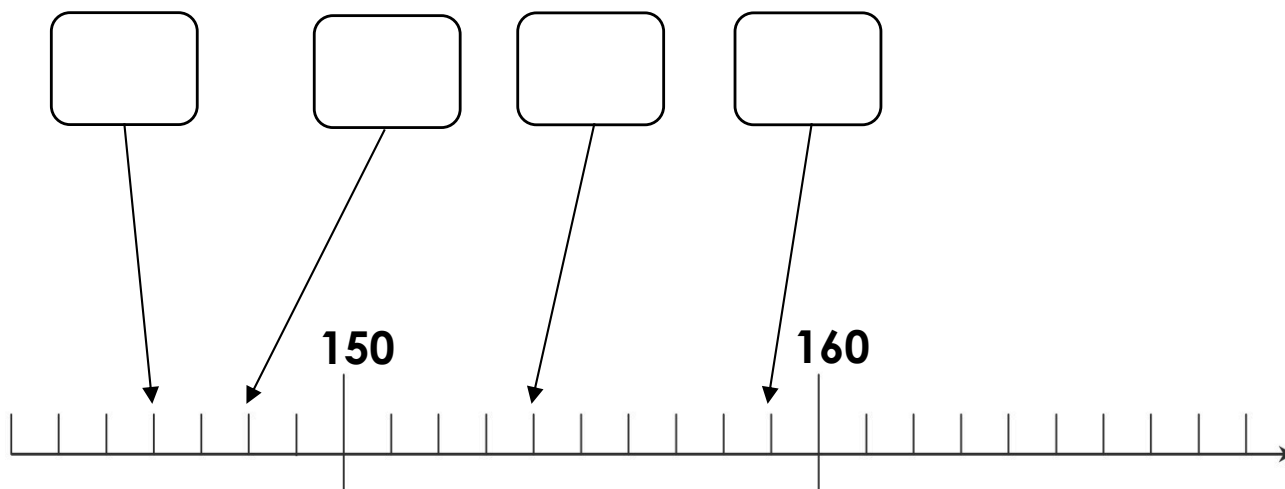
Nombres de 0 à 160

Range les nombres du plus petit au plus grand.

152 - 150 - 159 - 155 - 154



Note les nombres correspondants dans les bulles.



Choisis le bon signe. $<$ ou $>$

150 ○ 158

154 ○ 160

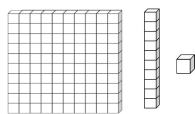
155 ○ 159

156 ○ 151



Les nombres de 0 à 160

Dessine.



155

150

Range du plus petit au plus grand.

153 - 160 - 159 - 151 - 156

--	--	--	--	--

Note les réponses aux calculs.

$8 - 1 = \dots$

$6 - 2 = \dots$

$9 - 3 = \dots$

$5 - 2 = \dots$

$4 - 1 = \dots$

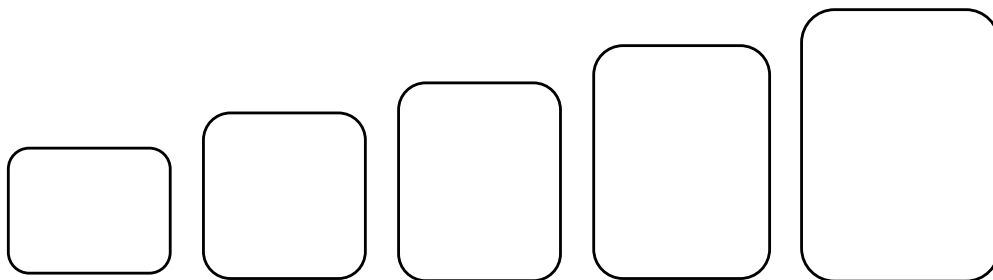
$7 - 2 = \dots$



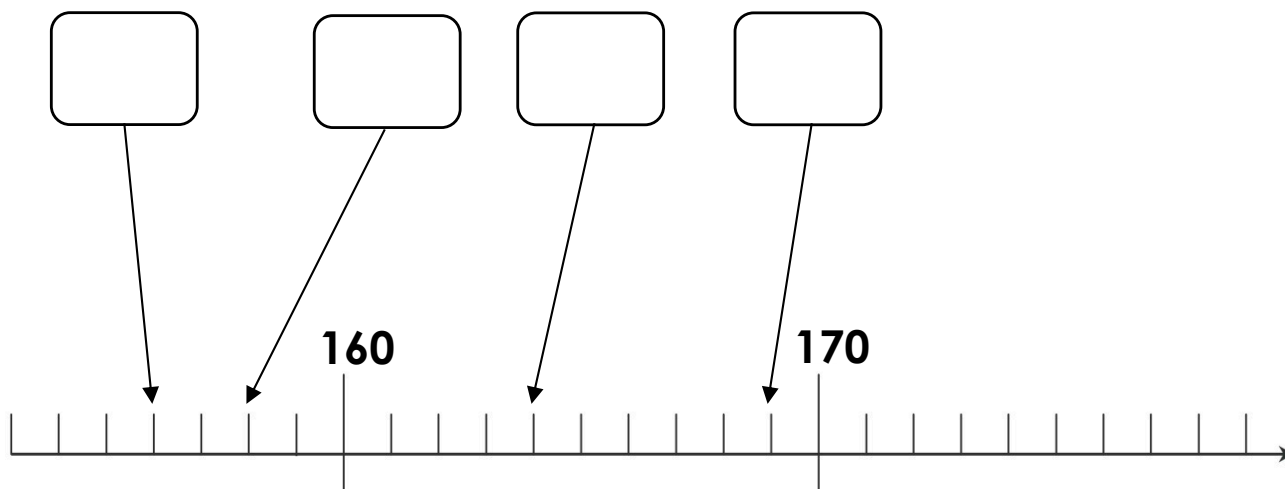
Nombres de 0 à 170

Range les nombres du plus petit au plus grand.

162 - 170 - 169 - 165 - 161



Note les nombres correspondants dans les bulles.



Choisis le bon signe. $<$ ou $>$

160 ○ 168

164 ○ 160

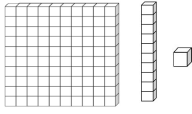
165 ○ 169

166 ○ 161



Les nombres de 0 à 170

Dessine.



162

168

Range du plus petit au plus grand.

163 - 160 - 170 - 166 - 169

--	--	--	--	--

Note les réponses aux calculs.

$6 - 1 = \dots$

$10 - 2 = \dots$

$6 - 3 = \dots$

$3 - 2 = \dots$

$9 - 1 = \dots$

$8 - 2 = \dots$

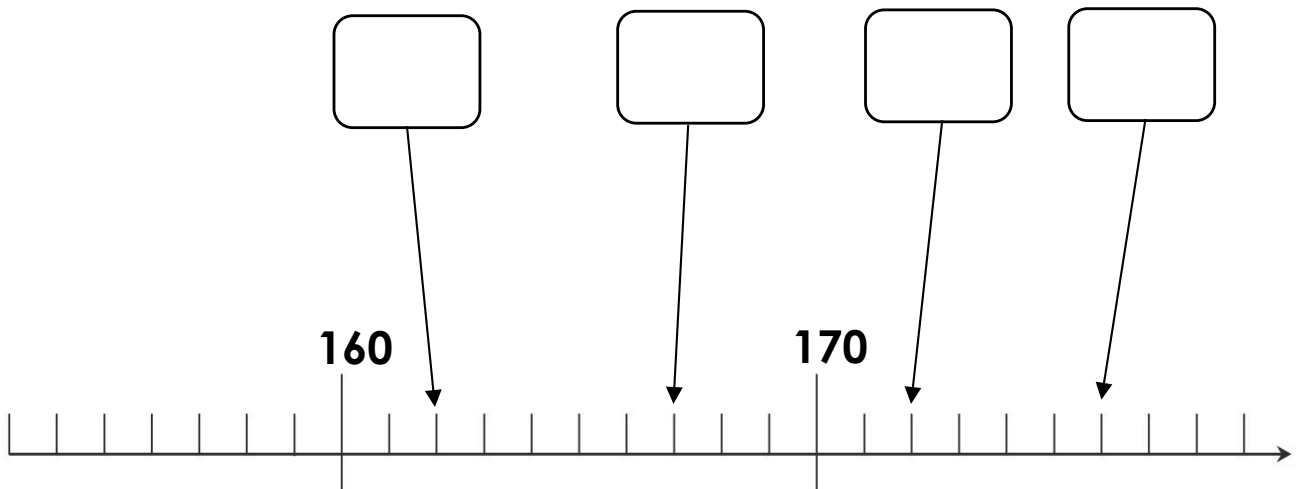


Nombres de 0 à 180

Range les nombres du plus grand au plus petit.

162 - 170 - 169 - 165 - 161

Note les nombres correspondants dans les bulles.



Choisis le bon signe. $<$ ou $>$

178 ○ 170

174 ○ 180

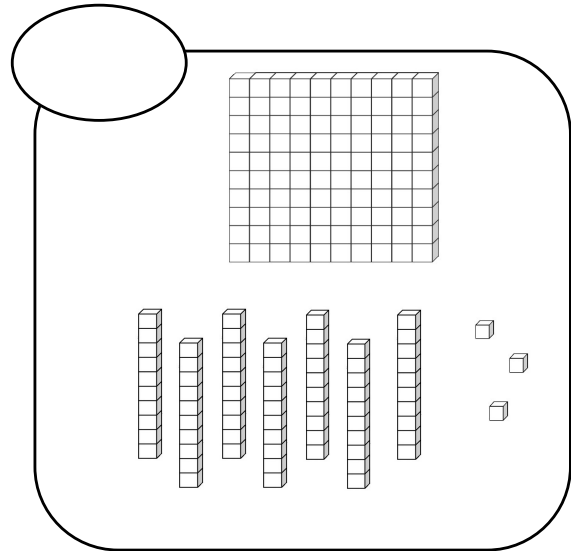
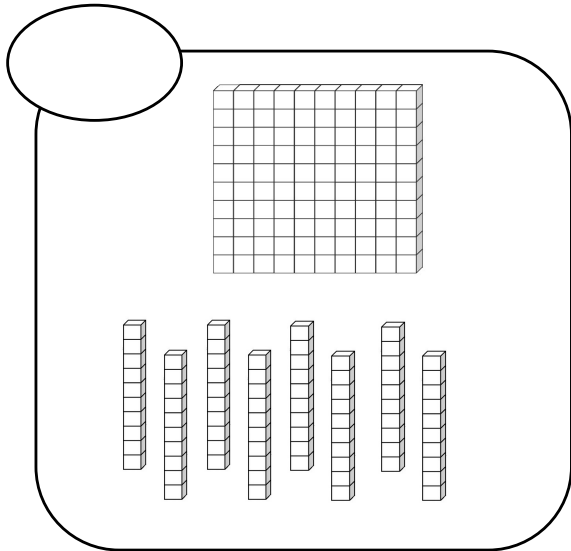
179 ○ 175

176 ○ 179



Les nombres de 0 à 180

Compte.



Range du plus petit au plus grand.

173 - 180 - 176 - 179 - 170

Note les réponses aux calculs.

$9 - 4 = \dots$

$10 - 3 = \dots$

$8 - 3 = \dots$

$6 - 1 = \dots$

$9 - 5 = \dots$

$6 - 5 = \dots$

