

Devoirs

3P

Semaine 23 0 à 60

Semaine 24 0 à 70 compléments à 10

Semaine 25 0 à 70 compléments à 10

Semaine 26 0 à 80 compléments à 10

Semaine 27 0 à 80

Semaine 28 0 à 80 additions

les nombres de 0 à 60

Choisis le bon signe : $<$ ou $>$

60 54

59 56

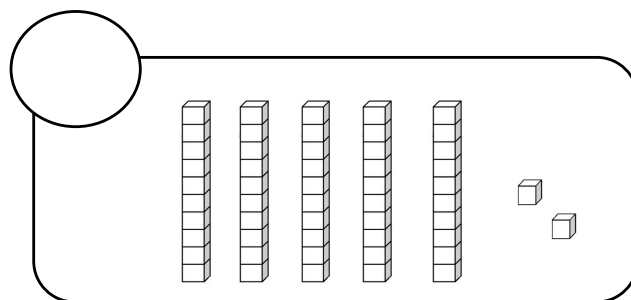
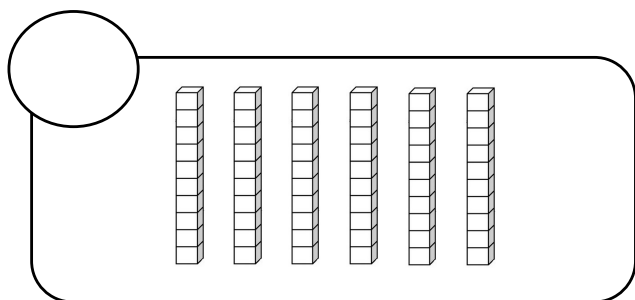
58 51

43 47

Range du plus petit au plus grand.


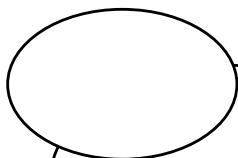
53 - 60 - 56 - 58 - 51

Compte.



Les nombres de 0 à 70

Compte et note le nombre de . Fais des paquets de 10.



Colorie les calculs qui font =10.

$3 + 5$

$5 + 5$

$2 + 8$

$4 + 3$

$4 + 6$

$3 + 7$

$9 + 1$

$6 + 2$



Les nombres de 0 à 70

Choisis le bon signe : $<$ ou $>$

$52 \bigcirc 66$

$61 \bigcirc 52$

$70 \bigcirc 63$

$69 \bigcirc 64$

Range du plus grand au plus petit.

64 - 70 - 61 - 68 - 65

--	--	--	--	--

Ecris 6 calculs qui font =10.

$..... + = 10$

$..... + = 10$

$..... + = 10$

$..... + = 10$

$..... + = 10$

$..... + = 10$



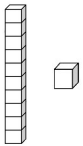
Les nombres de 0 à 80

Range du plus petit au plus grand.

73 - 80 - 69 - 78 - 75

--	--	--	--	--

Dessine.



74

80

Complète les calculs.

$8 + \dots = 10$

$3 + \dots = 10$

$\dots + 0 = 10$

$9 + \dots = 10$

$5 + \dots = 10$

$\dots + 6 = 10$

$4 + \dots = 10$


$2 + \dots = 10$

$\dots + 1 = 10$

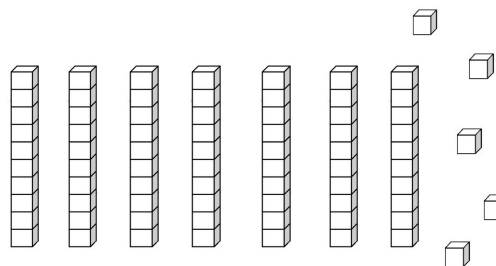
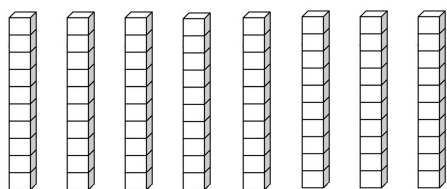


Les nombres de 0 à 80

Compte et note le nombre de . Fais des paquets de 10.



Compte.



Les nombres de 0 à 80

Choisis le bon signe : $<$ ou $>$

$72 \bigcirc 76$

$61 \bigcirc 72$

$80 \bigcirc 73$

$79 \bigcirc 80$

Range du plus grand au plus petit.

74 - 70 - 76 - 80 - 75

--	--	--	--	--

Note les réponses aux calculs.

$2 + 5 = \dots$

$9 + 1 = \dots$

$6 + 0 = \dots$

$6 + 4 = \dots$

$5 + 1 = \dots$

$2 + 6 = \dots$

$4 + 5 = \dots$

$3 + 3 = \dots$

$5 + 5 = \dots$

$8 + 1 = \dots$

$4 + 3 = \dots$

$7 + 3 = \dots$

