

Devoirs

4P

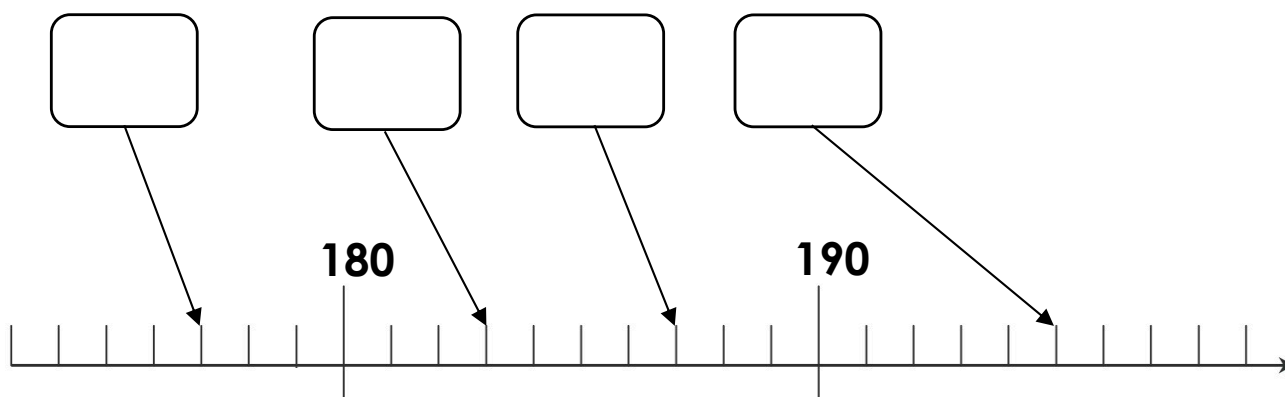
Semaine 29	0 à 200	problèmes
Semaine 30	0 à 200	compléments à 20
Semaine 31	0 à 200	compléments à 20
Semaine 32	0 à 200	compléments à 20
Semaine 33	0 à 200	compléments à 20
Semaine 34	0 à 200	problèmes
Semaine 35	0 à 200	problèmes

Nombres de 0 à 200

Range les nombres du plus petit au plus grand.

192 - 190 - 194 - 199 - 196

Note les nombres correspondants dans les bulles.



Résous le problème.

Lucie a ramassé 15 carottes, 12 haricots et 9 concombres.

Combien a-t-elle ramassé de légumes en tout ?

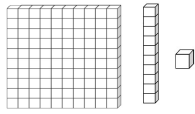
Calcul : _____

Réponse : _____



Les nombres de 0 à 200

Dessine.



194

200

Colorie les calculs qui font =20.

$13 + 5$

$5 + 15$

$2 + 18$

$4 + 13$

$14 + 6$

$13 + 7$

$19 + 1$

$16 + 2$

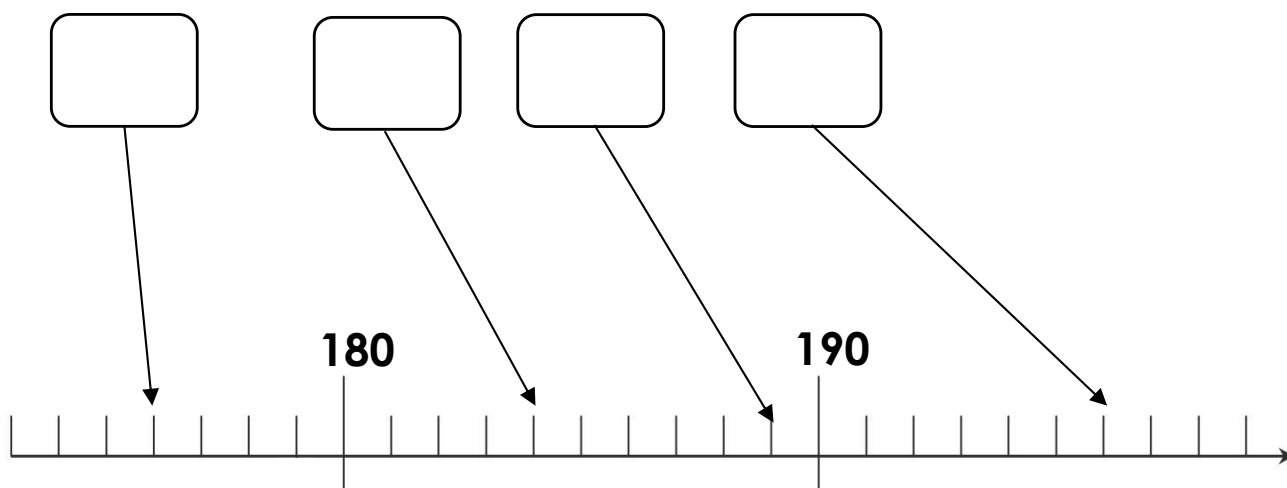


Nombres de 0 à 200

Range du plus grand au plus petit.

193 - 200 - 198 - 191 - 196

Note les nombres correspondants dans les bulles.



Ecris 6 calculs qui font =20.

$$\dots + \dots = 20$$

$$\dots + \dots = 20$$

$$\dots + \dots = 20$$

$$\dots + \dots = 20$$

$$\dots + \dots = 20$$

$$\dots + \dots = 20$$



Les nombres de 0 à 200

Range du plus petit au plus grand.

195 - 190 - 194 - 188 - 191

Choisis le bon signe. < ou >

$197 \bigcirc 190 + 9$

$190 \bigcirc 180 + 10$

$183 \bigcirc 180 + 3$

$197 \bigcirc 180 + 18$

Complète les calculs.

$8 + \dots = 20$

$3 + \dots = 20$

$\dots + 0 = 20$

$9 + \dots = 20$

$5 + \dots = 20$

$\dots + 6 = 20$

$4 + \dots = 20$

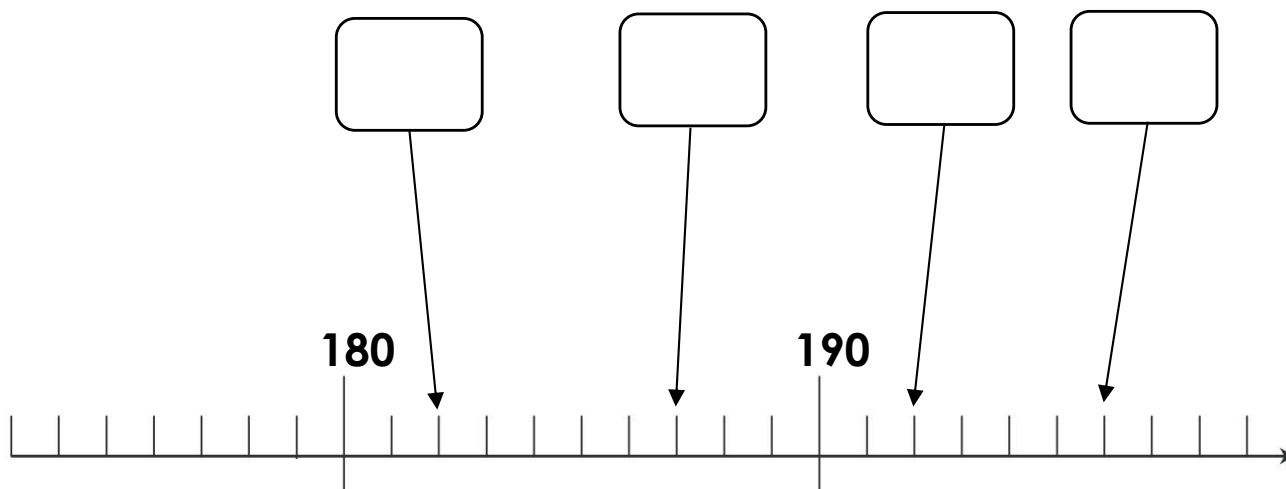
$2 + \dots = 20$

$\dots + 1 = 20$

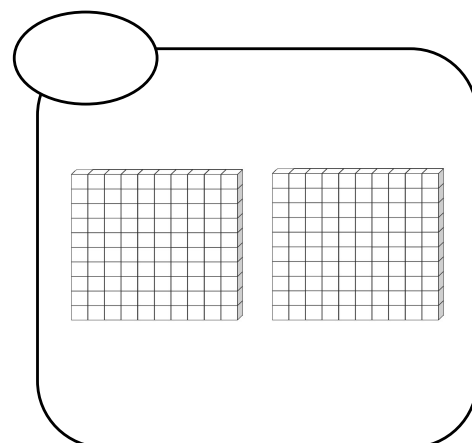
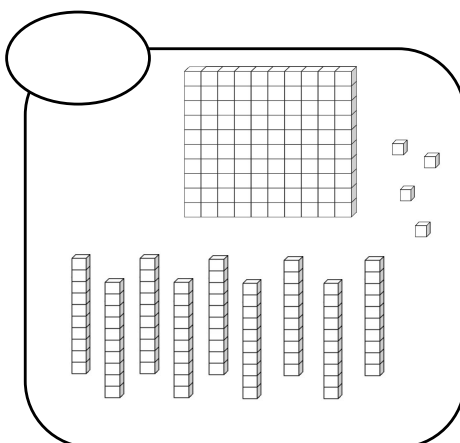
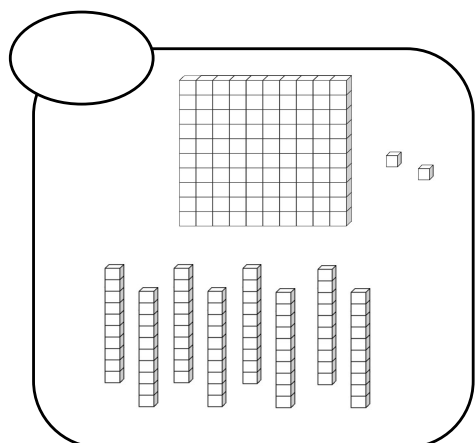


Nombres de 0 à 200

Note les nombres correspondants dans les bulles.



Compte.



Complète les calculs.

$$18 + \dots = 20$$

$$13 + \dots = 20$$

$$\dots + 10 = 20$$

$$19 + \dots = 20$$

$$15 + \dots = 20$$

$$\dots + 16 = 20$$

$$14 + \dots = 20$$


$$12 + \dots = 20$$

$$\dots + 11 = 20$$



Nombres de 0 à 200

Compte et note le nombre de . Fais des paquets de 10.



Résous le problème.

Emilie a 20 bonbons. Elle en donne 12 à sa copine.

Combien lui reste-t-il de bonbons ?

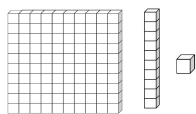
Calcul : _____

Réponse : _____



Nombres de 0 à 200

Dessine.



188

192

Résous le problème.

Juju a préparé 22 limonades. Il en a vendu 12.

Combien lui reste-t-il de limonades ?

Calcul : _____

Réponse : _____

