

# Devoirs

## 4P

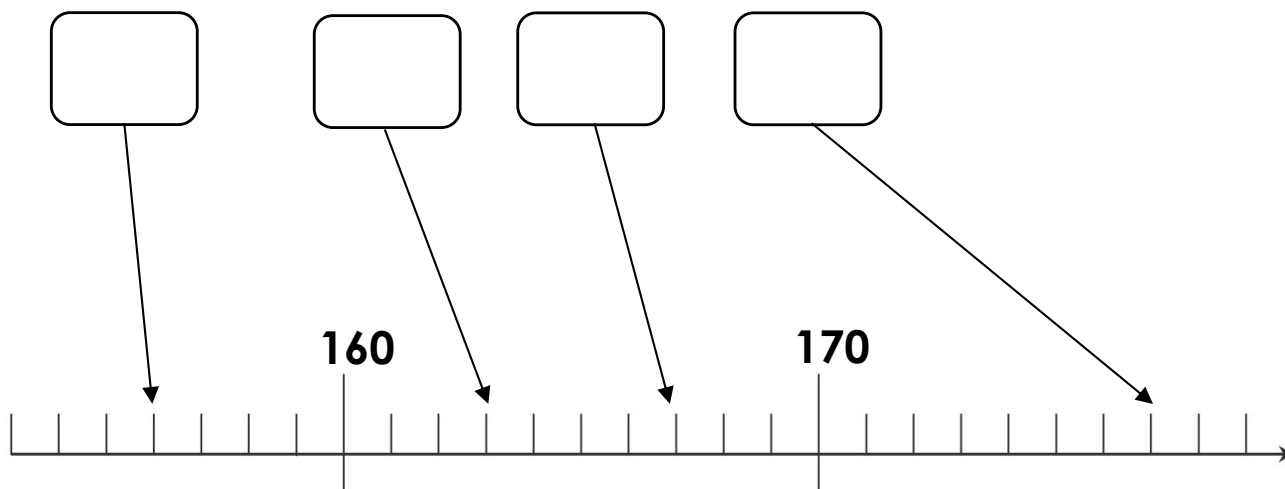
Semaine 23	0 à 180	
Semaine 24	0 à 190	problèmes
Semaine 25	0 à 190	problèmes
Semaine 26	0 à 200	problèmes
Semaine 27	0 à 200	problèmes
Semaine 28	problèmes	

Nombres de 0 à 180

Range les nombres du plus petit au plus grand.

172 - 180 - 174 - 175 - 179

Note les nombres correspondants dans les bulles.



Choisis le bon signe.  $<$  ou  $>$

170 ○ 178

180 ○ 174

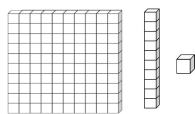
175 ○ 179

176 ○ 171



Les nombres de 0 à 190

Dessine.



185

180

**Résous le problème.**

Ali a caché 22 carottes dans le salon. Il a aussi caché 14 concombres.

**Combien de légumes a-t-il caché dans le salon ?**

Calcul : \_\_\_\_\_

Réponse : \_\_\_\_\_

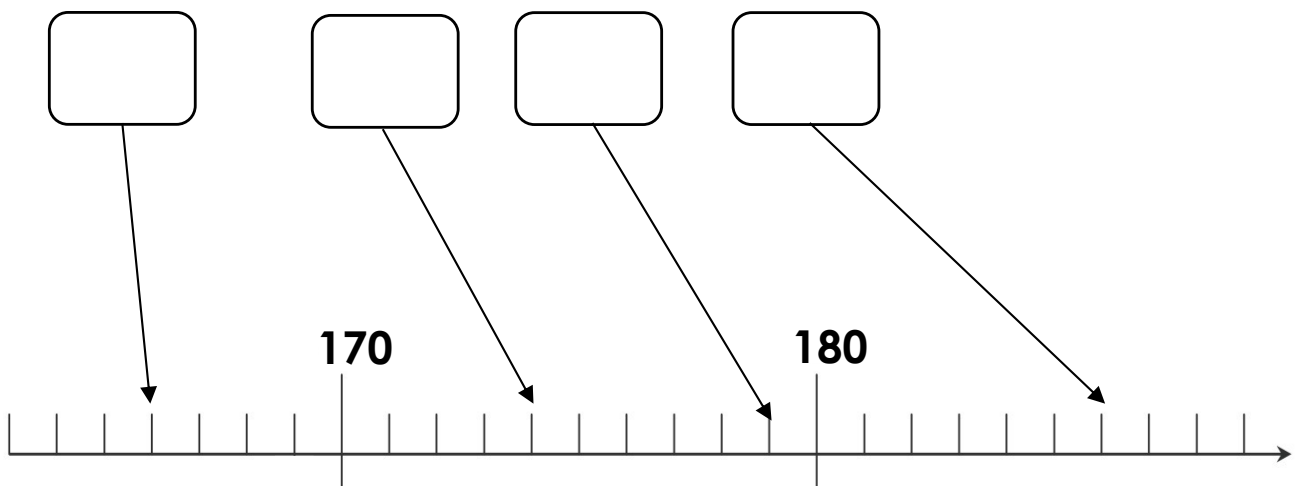


## Nombres de 0 à 190

Range du plus grand au plus petit.

183 - 190 - 188 - 181 - 186

Note les nombres correspondants dans les bulles.



Résous le problème.

Emma a ramassé 15 pommes. Elle en donne 5 à sa voisine.

**Combien lui reste-t-il de pommes ?**

Calcul : \_\_\_\_\_

Réponse : \_\_\_\_\_



Les nombres de 0 à 200

Range du plus petit au plus grand.

193 - 190 - 199 - 200 - 196

Choisis le bon signe. < ou >

$198 \bigcirc 190 + 9$

$194 \bigcirc 180 + 10$

$189 \bigcirc 180 + 3$

$196 \bigcirc 180 + 18$

Résous le problème.

Luc a pêché 20 poissons. Il y a 12 perches et des brochets.

**Combien a-t-il pêché de brochets ?**

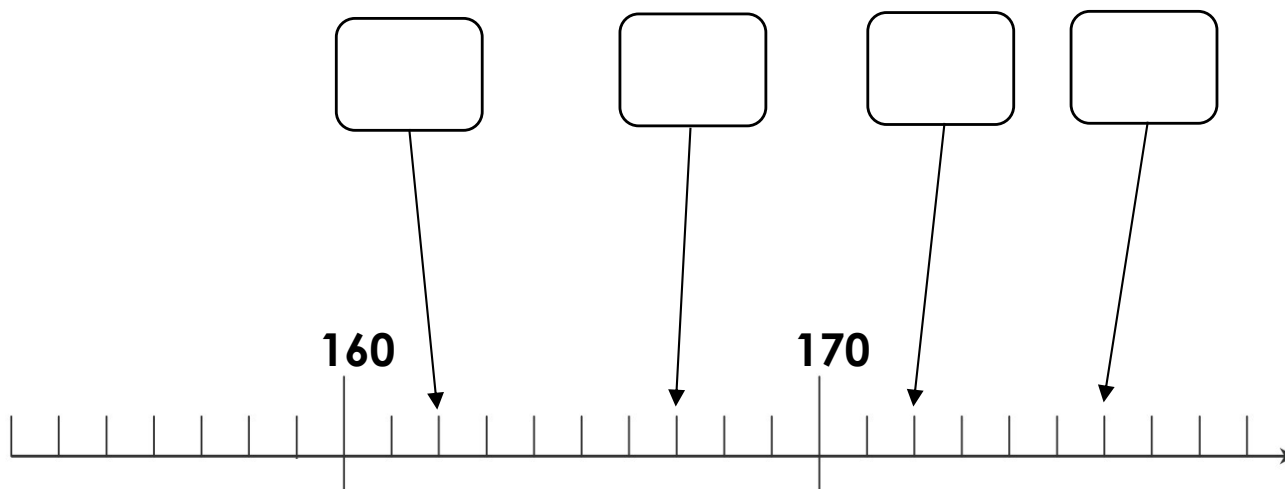
Calcul : \_\_\_\_\_

Réponse : \_\_\_\_\_

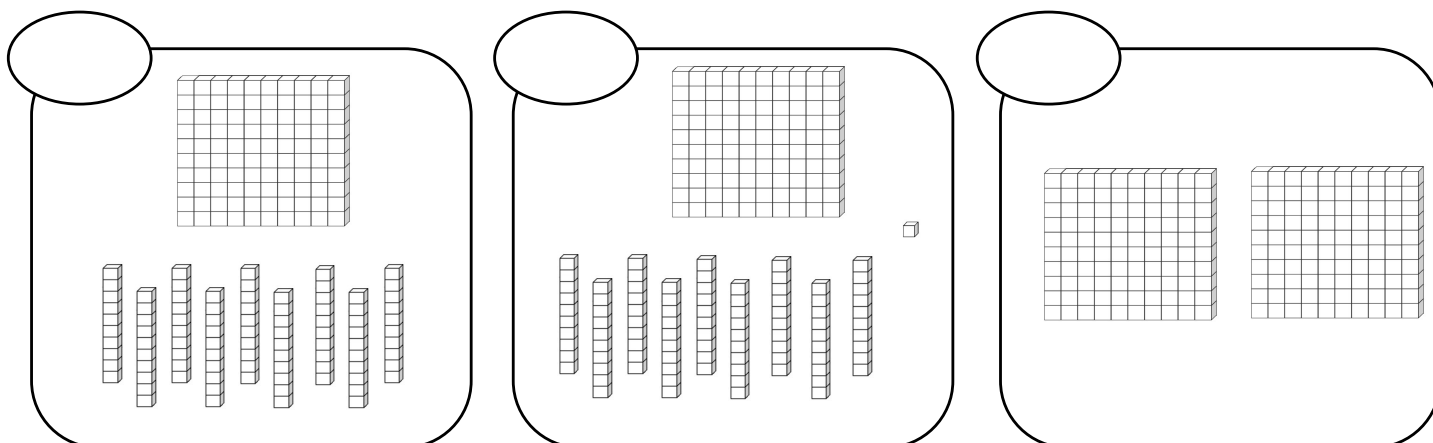


## Nombres de 0 à 200

**Note les nombres correspondants dans les bulles.**



**Compte.**



**Résous le problème.**

Mila a pris 22 billes bleues et 24 billes rouges.

**Combien a-t-elle de billes en tout ?**

Calcul : \_\_\_\_\_

Réponse : \_\_\_\_\_



## Problèmes

1. Dans mon jardin, j'ai planté 17 tulipes, 21 roses et 11 jonquilles.

**Combien ai-je planté de fleurs en tout ?**

Calcul : \_\_\_\_\_

Réponse : \_\_\_\_\_

2. Une petite fille a 35 billes. Elle en donne 12 à sa copine.

**Combien de billes lui reste-t-il ?**

Calcul : \_\_\_\_\_

Réponse : \_\_\_\_\_

3. Marc a rapporté 36 pives et 13 feuilles de la forêt.

**Combien de choses a-t-il rapporté ?**

Calcul : \_\_\_\_\_

Réponse : \_\_\_\_\_

